



**МЕЖДУНАРОДНАЯ ДИСТАНЦИОННАЯ ВИКТОРИНА
ДЛЯ ДОШКОЛЬНИКОВ**

ПОДГОТОВКА К ШКОЛЕ! МАТЕМАТИКА

Викторина состоит из 10 вопросов.

***Внимание! Во всех вопросах только один правильный ответ.**

Желаем Вам успехов!

1. Ответьте на вопрос. Сколько сов изображено на рисунке?

- 1) 4
- 2) 3
- 3) 5
- 4) 1



2. Ответьте на вопрос. Кто соседи числа?

- 1) 7 и 9
- 2) 7 и 8
- 3) 8 и 9
- 4) 6 и 9


8

3. Поставьте нужный знак.

- 1) >
- 2) <
- 3) =
- 4) :

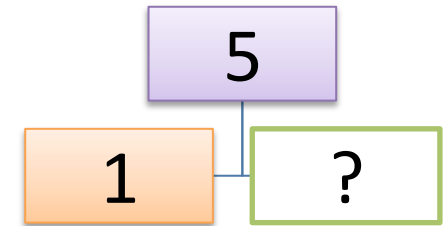


?



4. Найдите нужную цифру.

- 1) 3
- 2) 4
- 3) 1
- 4) 2



5. Продолжите ряд.

- 1) 3, 3
- 2) 3, 2
- 3) 2, 3
- 4) 2, 2

2	2	3	2
---	---	---	---	-----	-----



6. Ответьте на вопрос. На каком рисунке нарисован прямоугольник?

- 1) 1
- 2) 2
- 3) 3
- 4) 4



1



2




3



4


7. Ответьте на вопрос. Сколько нужно дорисовать животных, чтобы их стало 10?

- 1) 2
- 2) 1
- 3) 3
- 4) 4



8. Ответьте на вопрос. Как называется эта фигура?

- 1) конус
- 2) призма
- 3) куб
- 4) цилиндр



9. Ответьте на вопрос. Какое число получится, если увеличить число 5 на 1?

- 1) 7
- 2) 8
- 3) 6
- 4) 5

10. Ответьте на вопрос. В каком квадрате солнышко нарисовано в нижнем левом углу?

