



Портал для целеустремленных натур

www.kssovushka.ru

СОВУШКА

mail@kssovushka.ru



ЗИМА 2018-2019

**МЕЖДУНАРОДНАЯ ДИСТАНЦИОННАЯ ВИКТОРИНА
ДЛЯ МЛАДШИХ ШКОЛЬНИКОВ С ОВЗ**

ЮНЫЕ МАТЕМАТИКИ

2 класс

Викторина состоит из 10 вопросов.







**Внимание! Во всех вопросах только один правильный ответ.*

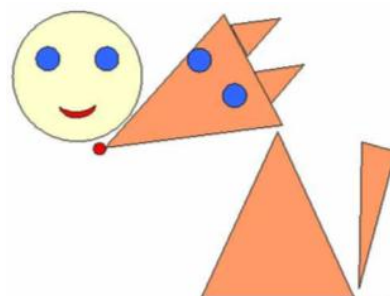
1. Ответьте на вопрос. Какое число пропущено?

9, 10, 11, ..., 13, 14.


- 1) 15 2) 12 3) 8

2. Ответьте на вопрос. Сколько геометрических фигур на рисунке?

- 1) 5 - , 6 - 
2) 9 - , 1 - 
3) 3 - , 4 - 



3. Ответьте на вопрос. Что находится в левом нижнем углу?



- 1) треугольник 2) звёздочка 3) круг



4. Ответьте на вопрос. Какое число больше числа 10 на 1 единицу?

1) 11

2) 9

3) 12

5. Вставь в пустую клетку число, чтобы пример был верным.

6	+		=	10
---	---	--	---	----

1) 3

2) 5

3) 4

6. Ответьте на вопрос. Какое слово зашифровано в ребусе?

7я

1) семечки

2) семерка

3) семья

7. Реши задачу на смекалку.

Маша, Машенька, Маруся, Мария собирали грибы.

Подумай, сколько же было девочек?

1) 4

2) 1

3) 3

8. Ответьте на вопрос. Какое число получится, если уменьшить число 15 на 5?

1) 10

2) 9

3) 11

9. Ответьте на вопрос. Кто из героев мультфильмов решил пример правильно?

1)



$$5 + 4 = 8$$

2)



$$5 + 4 = 10$$

3)



$$5 + 4 = 9$$

10. Ответьте на вопрос. Какое время показывают часы?



а) 12 часов

б) 10 часов

в) 11 часов