



**МЕЖДУНАРОДНАЯ ДИСТАНЦИОННАЯ ВИКТОРИНА  
ДЛЯ МЛАДШИХ ШКОЛЬНИКОВ С ОВЗ**

**ЮНЫЕ МАТЕМАТИКИ**

3 класс

Викторина состоит из 10 вопросов.

*\*Внимание! Во всех вопросах только один правильный ответ.*

**1. Выберите соседей числа 45.**

1) 45 и 46

2) 44 и 46

3) 46 и 47

**2. Впишите пропущенное число.**

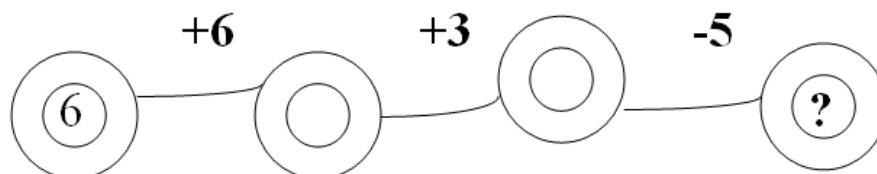
$$15 = 9 + ?$$

1) 7

2) 5

3) 6

**3. Ответьте на вопрос. Какое будет число в последнем звене?**



1) 10

2) 15

3) 20

**4. Решите задачу на смекалку.**

**Один старичок нёс 5 кг ваты, а другой – 5кг сахара.**

**Что тяжелее?**



1) 5 кг ваты

2) 5 кг сахара

3) груз одинаковый

### 5. Решите задачу.



Сбежала от Федоры посуда:

3 стакана, 3 чашки, 3 блюда

Кто сосчитать готов?

Сколько всего беглецов?

1) 6

2) 9

3) 10

### 6. Решите задачу-шутку.

Мой приятель шёл,

Пятак нашёл.

Двое пойдём,

Сколько найдём?



1) неизвестно

2) 5




3) 10

### 7. Ответьте на вопрос. Какая ракета не взлетит?

1)  $17-8=9$

2)  $50+7=57$

3)  $25+6=30$



**8. Вместо снежинки подставьте в пословицу число.**

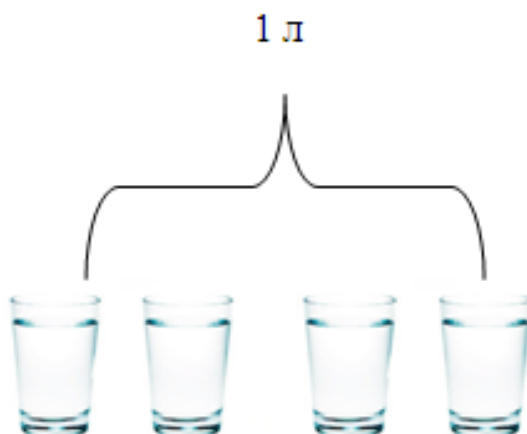
**\* раз отмерь, один отрежь.**

1) 1

2) 100

3) 7

**9. Решите задачу. В четырёх стаканах 1 л жидкости**



**В бидоне 3л молока. Сколько стаканов можно наполнить ЭТИМ МОЛОКОМ?**

1) 4 стакана

2) 9 стаканов

3) 12 стаканов

**10. Выберите острый угол.**

