



МЕЖДУНАРОДНАЯ ДИСТАНЦИОННАЯ ВИКТОРИНА ДЛЯ ДОШКОЛЬНИКОВ

«ПОДГОТОВКА К ШКОЛЕ! МАТЕМАТИКА»

01.12.19-29.02.20

**Внимание! Во всех вопросах только один правильный ответ.*

1. Зверята, участвовали в соревнованиях по бегу. Сейчас они приближаются к финишу. Кто из зверят бежал пятым?



- 1) Медведь
- 2) Лошадь
- 3) Обезьяна
- 4) Жираф

2. Кто из зверушек был третьим, с кем встретился Колобок в лесу?

- 1) Волк
- 2) Медведь
- 3) Лиса
- 4) Заяц

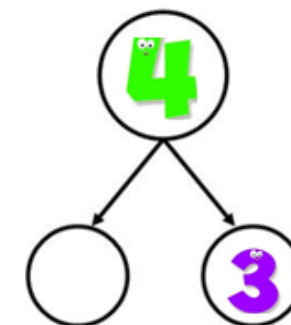
3. Выберите нужный знак.



- 1) <
- 2) >
- 3) =
- 4) -

4. Укажите недостающее число.

- 1) 4
- 2) 3
- 3) 2
- 4) 1




5. Каких овощей больше всего изображено на рисунке?



- 1) Помидоры
- 2) Баклажаны
- 3) Огурцы
- 4) Картофель



6. Жучков, какого цвета меньше всего?



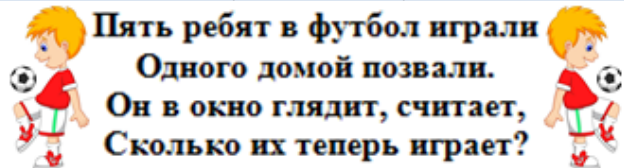
- 1) Зелёного цвета
- 2) Синего цвета
- 3) Жёлтого цвета
- 4) Красного цвета

7. Укажите чётное число.

3 5 8 9

- 1) 3
- 2) 5
- 3) 8
- 4) 9


8. Решите математическую задачу в стихах.



- 1) 5
- 2) 4

- 3) 3
- 4) 6

9. Нина нарисовала 6 красных кружков и 4 синих. Сколько всего кружков нарисовала Нина?



- 1) 8
- 2) 11
- 3) 9
- 4) 10

10. Посмотрите на выражение и отметьте уменьшаемое.

$$7 - 4 = 3$$

- 1) 7
- 2) 4
- 3) 3
- 4) 2