



www.kssovushka.ru

СОВУШКА

mail@kssovushka.ru

Портал для целеустремленных натур



ЛЕТО 2018

**МЕЖДУНАРОДНАЯ ДИСТАНЦИОННАЯ ВИКТОРИНА
ДЛЯ ДОШКОЛЬНИКОВ**

«К ШКОЛЕ ГОТОВ! МАТЕМАТИКА»

Все полученные ответы необходимо внести в электронный бланк ответов.

*Внимание! Во всех вопросах только один правильный ответ.

Желаем Вам успехов!

1. Выберите правильный ответ. Сколько книг изображено на рисунке?

- 1) 5
- 2) 6
- 3) 4
- 4) 7



2. Ответьте на вопрос. Кто соседи числа?

- 1) 7 и 10
- 2) 8 и 10
- 3) 6 и 5
- 4) 8 и 7


□ 9 □

3. Выберите правильный вариант ответа.

- 1) $10-8=3$
- 2) $10-8=2$
- 3) $10-8=1$
- 4) $10-8=0$

4. Ответьте на вопрос. Сколько нужно дорисовать ананасов, чтобы их стало 7?

- 1) 2
- 2) 3
- 3) 4
- 4) 1



5. Ответьте на вопрос. Как называется эта фигура?

- 1) пирамида
- 2) призма



www.kssovushka.ru

ГОВУШКА


mail@kssovushka.ru

Портал для целеустремленных натур



ЛЕТО 2018

- 3) конус
- 4) куб



6. Выберите нужный знак.

$$12 \square 10$$

- 1) $<$
- 2) $>$
- 3) $/$
- 4) $=$

7. Решите задачу. Если курица стоит на одной ноге, то она весит 3 кг. Сколько будет весить курица, если будет стоять на двух ногах?

- 1) 2 кг
- 2) 6 кг
- 3) 3 кг
- 4) 4 кг

8. Выберите «Отрезок».




1)



2)



3)



4)

9. Ответьте на вопрос. У курицы пять жёлтых цыплят и несколько чёрных. Всего у неё девять цыплят. Сколько чёрных цыплят у курицы?

- 1) 4
- 2) 5
- 3) 7
- 4) 9

10. Ответьте на вопрос. Мама купила Ане две куклы, а Ване три машинки. Сколько игрушек мама купила детям?

- 1) 4
- 2) 5
- 3) 3
- 4) 1